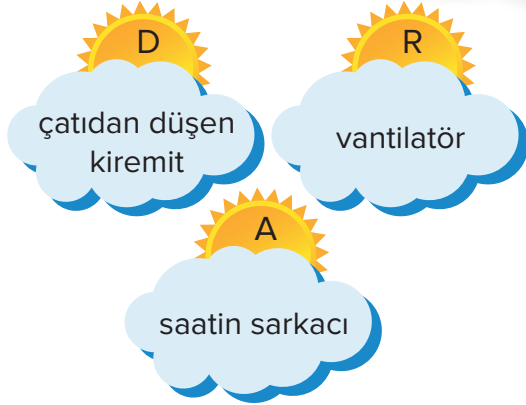


1.



Yukarıdaki bulutlarda yazılı olan varlıkların hareketleri birer harf ile eşleştirilmiştir.

Buna göre, bu varlıkları hareket türlerine göre

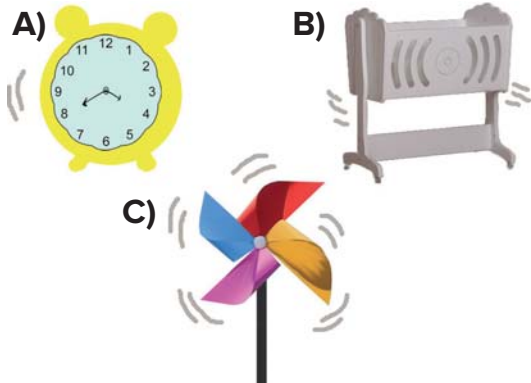
dönme **sallanma** **hızlanma**
şeklinde sıralayan Yusuf Mirhat
hangi heceyi elde eder?

A) DAR B) ARD C) RAD

2. Aşağıdakilerden hangisi kendiliğinden hareket **etmez**?

A) tavşan B) ağaç C) taş

3. Aşağıdaki varlıklardan hangisinin hareket türü diğerlerinden farklıdır?



4.

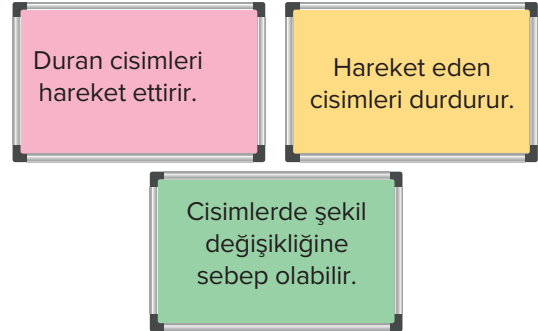


Yukarıdaki resimde Emir ve Enes oyuncaklarını paylaşmamaktadırlar.

Emir ve Enes'in oyuncuğa sahip olmak için uyguladıkları kuvvet, hangi seçenekte verilmiştir?

	Emir	Enes
A)	çekme	çekme
B)	itme	çekme
C)	itme	itme

5.



Panolarda yazılı olan cümlelerden kaç tanesinde kuvvetin cisimler üzerindeki etkileri anlatılmıştır?

A) 3 B) 2 C) 1




6.

★ Duran cismi hareket ettirebilir.	■ Hareket eden cismi durdurabilir.
● Cisimlerin şeklini değiştirebilir.	▲ Cisimlerin kütlelerini arttırabilir.

Yukarıdaki tabloda verilenlerden hangileri, kuvvetin varlıklar üzerindeki etkilerindendir?

- A) ★, ■, ●, ▲ B) ★, ●, ▲
C) ★, ■, ●

7. Aşağıdakilerden hangisinde uygulanan etki **yanlış** yazılmıştır?

- A)  itme B)  çekme
- C)  itme

8.

- çığ sel tayfun

Yukarıdakilerden kaç tanesi hareketli cisimlerin sebep olabileceği tehlikelere örnek verilebilir?

- A) 3 B) 2 C) 1

9.



Yukarıda, aynı uzunluktaki A ve B şehirleri arasındaki yolu farklı sürelerde alan araçlardan hangisi en hızlıdır?

- A) yeşil B) kırmızı C) mavi

10.

tavşan	taş
halı	gül

Muhammed Nur, yukarıdaki tablodaki hareketli varlıkları maviye, hareketsiz varlıkları kırmızıya boyuyor.

Muhammed Nur, hangi şekli elde eder?

- A)  B) 

- C) 